

أوراق عمل إثرائية لمادة الاجتماعيات للمصف السابع للفصل الدراسي الأول

إعداد المعلمات :

أ/ شيخة المطيري

أ/ أسماء الظفيري

مديرة المدرسة
أ / شيخة العيسى

الموجهة الفنية
أ / هدى العنزي

رئيسة القسم
أ / منال السعيد

- ١- (مساحة واسعة من الارض تمتد ضمن قارتين ويشغل
موقعا متميزا من خريطة العالم)
- ٢- (هو مجرى مائي صناعي ضيق يشق لأغراض الري)
- ٣- (هو مجرى مائي ضيق يصل بين بحرين او محيطين او
اي مساحتين كبيرتين نسبياً من الماء)
- ٤- (موقع ذات اهمية بين دول العالم)
- ٥- (جميع اشكال المياه على سطح الارض)
- ٦- (المياه التي توجد في باطن الارض)
- ٧- (هو نقطة من الكرة الارضية يتحدد موقعها بخطوط
الطول ودوائر العرض)
- ٨- (موقع الدولة بالنسبة لليابس والماء)
- ٩- (خطوط وهمية ترسم ع الكرة الارضية لتقسمها الى
جزئين شوقي وغربي عددها ٣٦٠ وتحدد التوقيت الزمني في جهات العالم)
- ١٠- (خطوط وهمية ترسم ع الكرة الارضية لتقسمها الى
جزئين شمالي وجنوبي وتحدد احوال المناخ في العالم)
- ١١- (كل ما ارتفع عن الارض له قمة لاتقل عن ١٠٠٠ متر)
- ١٢- (ارض مرتفعة سطحها مستوى وتمتد على مساحة كبير)
- ١٣- (مساحة كبيرة من الارض تتميز باستوائها وقلة ارتفاعها)
- ١٤ (اشكال سطح الارض من ارتفاعات وانخفاضات)



١٥-) (هو حالة الجو في مكان ما لمدة قصيرة تتراوح بين يوم الى عدة ايام من حيث الرطوبة ودرجة الحرارة والامطار والضغط الجوي

١٦-) (هي الاراضي المنخفضة التي تكونت من التربة التي حملتها مياه الانهار

١٧-) (الارض المنبسطة التي تجاور مياه البحر والمحيطات

١٨-) (حالة الجو في منطقة ما خلال فترة زمنية طويل من حيث الحرارة والرطوبة والامطار والضغط الجوي

١٩-) (هو وزن الهواء فوق اي مكان

٢٠-) (هو منطقة او مكان

٢١-) (النبات الذي ينمو بسبب سقوط الامطار دون تدخل الانسان

٢٢-) (حشائش طويلة تتربى عليها الماشية وتوجد في جنوب ووسط السودان والصومال وجيبوتي

٢٣-) (اعشاب قصيرة ويربى عليها الاغنام والماعز والخيول والابل والحمير

٢٤-) (مجرى مائي عذب ينحدر لينتهي الى بحر او نهر اخر او تدريجيا في الصحراء

٢٥-) (مسطح مائي تحيط به اليابس من جميع النواحي

٢٦-) (الماء الجاري مجرى صغير فالارض

٢٧-) (الذي يزرع بتدخل الانسان



اعداد المعلمة
أ/شيخة المطيري

اجيبي عن الاسئلة التالية :

اهم عناصر المناخ في الوطن العربي ؟

.....

العوامل التي تؤثر في مناخ الوطن العربي ؟

.....

عللي: الاماكن القريبة من خط الاستواء تتميز بارتفاع درجة حرارتها على مدار ايام السنة؟

.....

عللي: المدن الساحلية اكثر اعتدالاً في المناخ صيفاً وأدفاً نسبياً شتاءً ؟

.....

ما اسماء الرياح التي تهب على الوطن العربي ؟

.....

ما اهم العوامل الرئيسية المؤثرة في توزيع النبات الطبيعي في الوطن العربي ؟

.....

.....

ما انواع النباتات الطبيعية التي تنمو في انحاء الوطن العربي؟

.....

.....

مالعوامل التي ساعدت النباتات الصحراوية على العيش بالمناطق الجافة ؟

.....

.....

ما هي المصادر المائية الرئيسية المتوافرة في الوطن العربي

.....

صفات الامطار في الوطن العربي ؟

.....

ماهي اشكال المياه الجوفية ؟


.....

عددي اهم محطات تحلية المياه في دولة الكويت ؟

.....

ما المسطحات المائية التي تعتمد عليها دول الخليج العربية في تحلية المياه؟

.....



اعداد المعلمة: أ / شيخة المطيري

كيف نحافظ على ثروة المياه ونخفف من المشكلة ؟

.....
.....

ماهي ابرز مقومات الهوية العربية ؟

.....
.....

لماذا يتمتع الوطن العربي بموقع استراتيجي مهم ؟

.....

اذكري ملامح السطح في الوطن العربي ؟

.....

ماهي الاهمية الجغرافية للوطن العربي ؟

.....

ماهي النتائج التي تترتب على الاهمية الجغرافية للوطن العربي ؟

.....

ماهي الاهمية الاقتصادية للوطن العربي ؟

.....

ماهي الاهمية الحضارية والثقافية للوطن العربي؟

.....

يقع الجبل الاخضر في دولتين عربيتين اذكرهم ؟

.....

تعد الهضاب اكثر اشكال التضاريسية انتشاراً في الوطن العربي ؟

.....

تنقسم الهضاب في الوطن العربي الى قسمين ؟

.....

انواع السهول في الوطن العربي ؟

.....



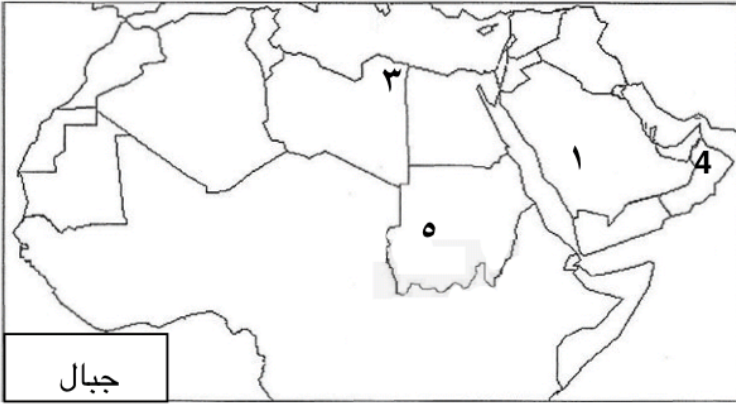
اعداد المعلمة
أ/ شيخة المطيري

اكمل الفراغات التالية بما يناسبها :

- ١- في اي قارات يمتد وطننا العربي
- ٢- ما اسم القارة المجاورة لقارة اسيا وافريقيا
- ٣- ما موقع الوطن العربي بالنسبة لقارات العالم
- ٤- ما اسم البحر الذي يفصل الجناح الاسيوي عن الجناح الافريقي هو
- ٥- ما الدولة التي انضمت حديثاً لجامعة الدول العربية هي
- ٦- اكبر الدول العربية في الجناح الاسيوي
- ٧- اكبر الدول العربية في الجناح الافريقي
- ٨- اصغر الدول العربية في الجناح الافريقي
- ٩- اصغر الدول العربية في الجناح الاسيوي
- ١٠- الدولة العربية التي يمر بها خط الاستواء هي
- ١١- الدولة العربية التي يمر بها خط جرينتش هي
- ١٢- المسطح المائي الذي يحد الوطن العربي من جهة الغرب
- ١٣- يصب نهر دجلة والفرات في
- ١٤- الدول العربية التي يمر بها نهر النيل
- ١٥- مصادر المياه الجوفية هي
- ١٦- مصدر من مصادر المياه تعتمد عليه دولة الكويت هي



اعداد المعلمة
أ/ شيخة المطيري



لاحظي الخريطة التي امامك ثم

اجيبي

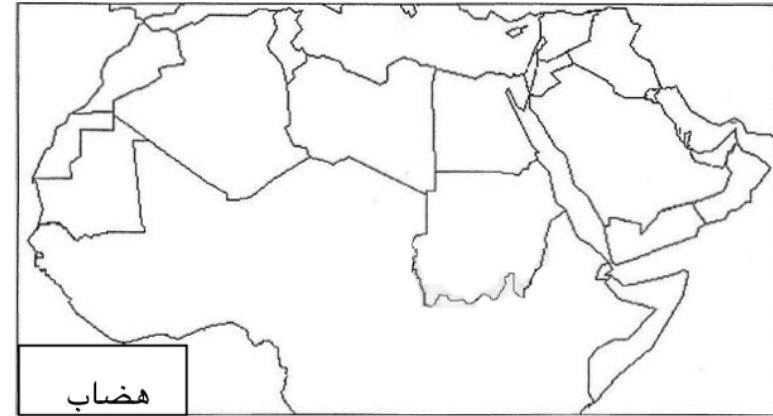
١- الجبل الاخضر يمثل رقمين ()

٢- جبل مرة يمثل رقم ()

٣- حددي جبل الاحجار برمز ✕

٤- حددي جبل اطلس برمز —

حددي جبل شيخادار برمز ●



لاحظي الخريطة التي امامك ثم

اجيبي

١- حددي هضبة نجد برمز +

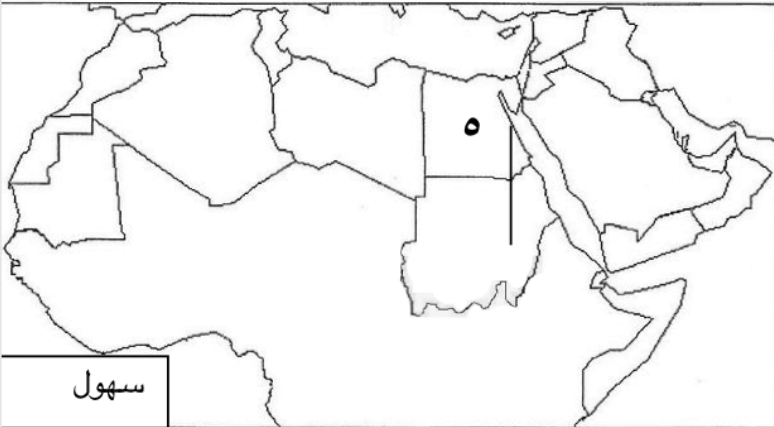
٢- حددي هضبة الشطرط برمز —

٣- حددي هضبة بادية الشام

برمز ●

٤- حددي هضبة افريقيا الشمالية

(الصحراء الكبرى) برمز #



لاحظي الخريطة التي امامك ثم

اجيبي

١- سهل نهر دجلة والفرات يمثل رقم ()

٢- سهل نهر النيل يمثل رقم ()

٣- حددي سهل نهر المجردة برمز +

٤- حددي سهل نهر الشليف برمز #

٥- حددي سهل نهر جوبا برمز =

٦- حددي سهل نهر شبلي برمز ✕



اعداد المعلمة/ شيخه المطيري

أولاً : عرفى ما يلى :

- حضارة : هي كل ما يطرأ على المجتمع من تقدم وتطور ورقي في جميع نواحي الحياة الدينية والسياسية والاقتصادية والاجتماعية والفكرية ص ٧١
- البعث والخلود : هو الاعتقاد بعودة الحياة إلى الجسم بعد الموت ص ٧٦
- بلاد الرافدين : تعني بلاد ما بين النهرين ، ويطلق عليها حالياً اسم العراق ص ٧٩
- أوال : اسم أطلق على البحرين قديماً نسبة إلى صنم اسمه أوال كانت تعبده قبيلة وائل التي حكمت البحرين آنذاك ص ٨٩

ثانياً : أكملى الفراغات التالية بما يناسبها وفق ما درست :

- عُرِفَت الكتابة المصرية القديمة باسم ص ٧٨
- يطلق اسم بلاد الرافدين أو بلاد ما بين النهرين على دولة عربية تسمى ص ٧٩
- تعتبر الاهرامات مظهراً من مظاهر الحضارة ص ٧٧
- من أشهر ملوك الحضارة البابلية في العراق ملك يسمى ص ٨٤
- عرفت كتابة حضارة بلاد الرافدين باسم ص ٨٣
- احتوت شريعة حمورابي على مادة قانونية ص ٨٤
- تتألف عدد الحروف الأبجدية من حرفاً ص ٨٧
- عرفت كتابة بلاد اليمن بالأبجدية وكانت تكتب بالخط ص ٨٧
- عدد حروف الكتابة المسمارية حرف ص ٨٣
- أشهر ملوك سبأ بنت شراحيل بن مالك بن الريان هي ص ٨٦



إعداد المعلمة : أسماء الظفيري

ثالثا : على لما يأتي (أذكرى السبب) :

- ١ - ازدهار الزراعة في بلاد الرافدين ص ٨١
- بسبب خصوبة تربتها ، سعة سهولها ووفرة مياهها
- ٢ - حرص المصريين القدماء على تحنيط جثث موتاهم ص ٧٦
- لإيمانهم بالبعث والخلود
- ٣- تُعد منطقة جنوب غرب شبه الجزيرة العربية من أكثر المناطق ملاءمة لقيام الحضارة ص ٨٥
- بسبب توافر المياه العذبة والمناخ المناسب لقيام الزراعة والموقع الجغرافي
- ٤- كان الوطن العربي مركزا للحضارات المختلفة عبر التاريخ ص ٧٣
- بسبب الموقع الجغرافي والمناخ المعتدل وتوفر الثروات الطبيعية وتوفر العنصر البشري
- ٥- تُعد حضارة دلمون مركزا مهما للمواصلات البحرية ص ٨٨
- بحكم موقعها في وسط الخليج العربي
- ٦- اقتصر ظهور المجتمعات الحضارية على الجزء الجنوبي الغربي من شبه الجزيرة العربية ص ٨٥
- بحكم موقعها الذي يسمح بقيام النشاط التجاري
- توافر المياه العذبة
- المناخ المناسب لقيام الزراعة
- ٧- كانت أوروبا قديما تعيش عصور الظلام ص ٩٢
- بسبب سيطرة الكنيسة على عقول الناس



إعداد المعلمة : أسماء الظفيري

رابعاً - أجبني عن الأسئلة التالية :

١- عددي الأنشطة الاقتصادية لحضارة جنوب غرب شبه الجزيرة العربية ص ٨٦
- اشتهروا بالمشاريع الزراعية نظموا عملية الري عن طريق بناء السدود والخزانات ومن أشهر منتجاتها الزراعية (الموز - اللبان - القرفة)

٢- عددي الأنشطة الاقتصادية لحضارة دلمون ص ٨٨
- مارسوا الزراعة وصيد الأسماك والغوص على اللؤلؤ

٣- أذكرني المبادئ التي حثنا عليها الإسلام ص ٩٢
- الشورى - العدل - المساواة

خامساً - قارني بين كل من طبقا للجدول التالي :- ص ٨٥

| وجه المقارنة | حضارة معين | حضارة سبأ | حضارة حمير |
|--------------|---------------------------|----------------------|-------------------------------|
| موقعها | شمال اليمن | وسط اليمن | جنوب اليمن |
| أم مدنها | قرناو | مأرب | ريدان |
| أهم معالمها | مدينة يثل الدينية في معين | نقش سبأ بالخط المسند | مائدة قرابين تعود لمملكة حمير |



إعداد المعلمة : أسماء الظفيري

سادساً - صنف كل مما يلي طبقاً للجدول التالي :- ص ٧٧

١- أهم المحاصيل والصناعات الموجودة في الحضارة المصرية القديمة
(كتان ، أواني فخارية ، ورق ، بقول ، ملابس كتانية ، قمح ، فواكه ، سفن)

| أهم الصناعات | أهم المحاصيل الزراعية |
|--------------|-----------------------|
| أواني فخارية | قمح |
| ورق | كتان |
| ملابس كتانية | فواكه |
| سفن | بقول |

٢- صنف المنتجات التجارية الواردة والمصدرة من وإلى بلاد الرافدين : ص ٨١
(المنسوجات ، المعادن ، الأحجار ، المنتجات الزراعية ، الأخشاب)

| الواردات | الصادرات |
|----------|-------------------|
| المعادن | المنتجات الزراعية |
| الأحجار | المنسوجات |
| الأخشاب | |

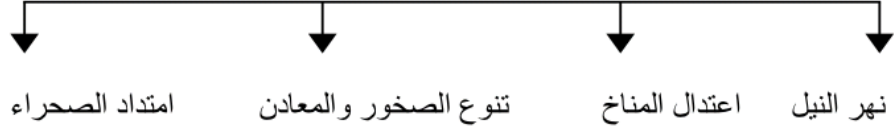
٣- صنف الأسماء التالية في مكانها الصحيح في الجدول التالي : ص ٩٠
(الإنجيل ، موسى عليه السلام ، القرآن الكريم ، عيسى عليه السلام ، التوراة ، محمد صل الله عليه وسلم)

| الديانة | الكتاب | النبي |
|----------|---------------|------------------------|
| الإسلام | القرآن الكريم | محمد صل الله عليه وسلم |
| المسيحية | الإنجيل | عيسى عليه السلام |
| اليهودية | التوراة | موسى عليه السلام |

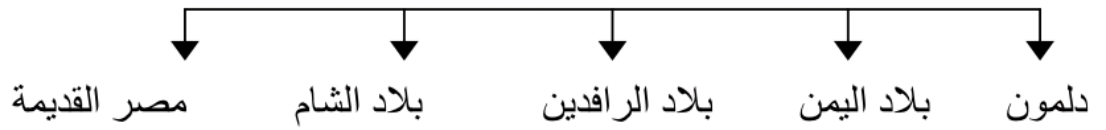
إعداد المعلمة : أسماء الظفيري

سابعاً : أكملني المخططات السهمية التالية :

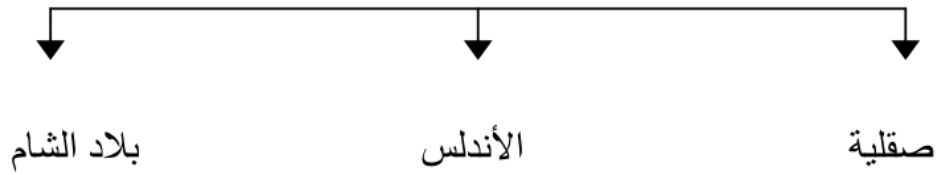
١- عوامل قيام الحضارة المصرية القديمة : ص ٧٥



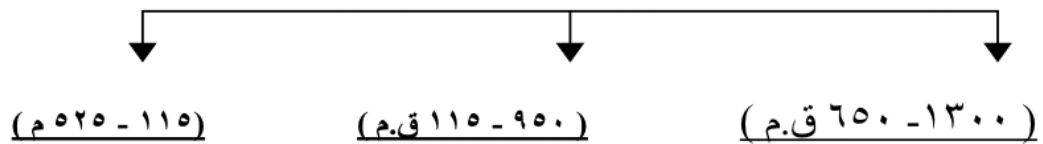
٢- أهم الحضارات التي قامت في الوطن العربي : ص ٧٢



٣- انتقلت الحضارة العربية الاسلامية إلى أوروبا عن طريق: ص ٩٢



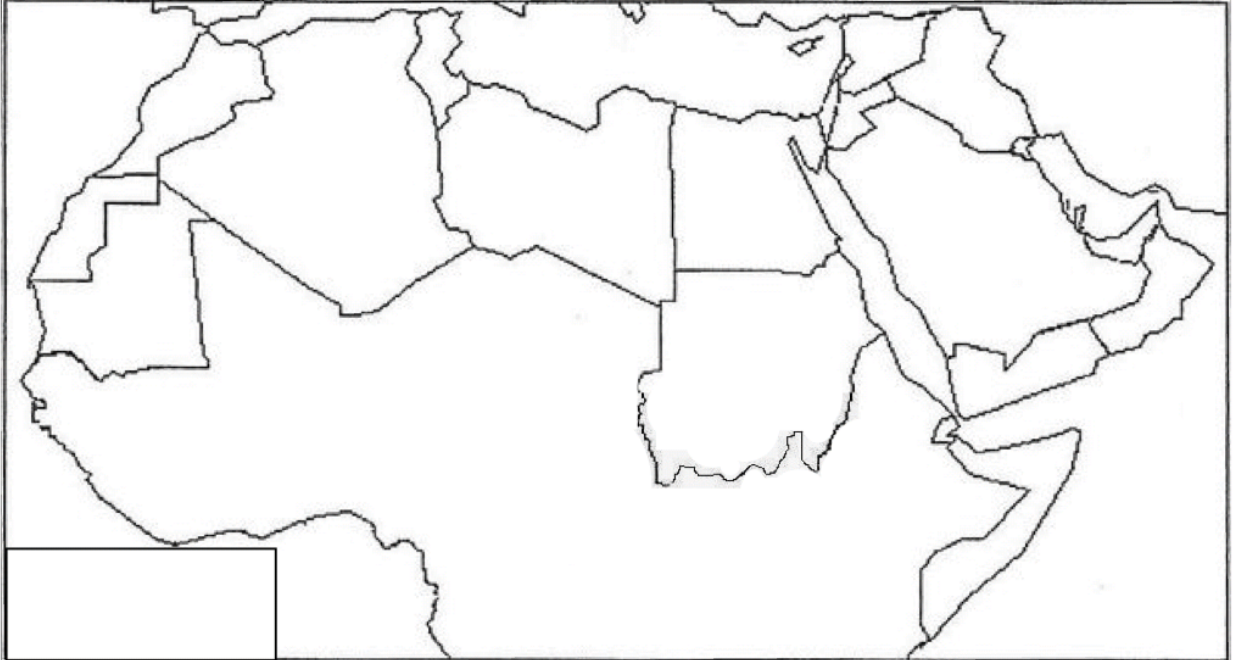
٤- انتقلت الحضارة العربية الاسلامية إلى أوروبا عن طريق: ص ٨٦



إعداد المعلمة : أسماء الظفيري

لاحظي خريطة الوطن العربي ثم حددي عليها ما يلي :

- ظللي حضارة بلاد الرافدين
- ضعي الرمز * حضارة دلمون
- ضعي الرمز X للحضارة المصرية القديمة
- ضعي الرمز # لحضارة بلاد اليمن



المراجعة لا تغني عن الكتاب
المدرسي

إعداد المعلمة : أسماء الظفيري